

ATIVIDADE DE MATEMÁTICA

ESTUDANTE:

PROFESSOR (A):

DATA: ____ / ____ / ____

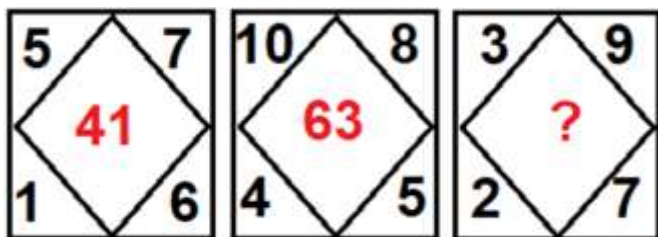
ESCOLA:

TURMA:

1. As idades de três irmãos Carlos, Léo e Levi somam 30 anos. Léo e Levi são gêmeos e a idade deles é o dobro da idade de Carlos. Sobre a idade dos irmãos, é correto afirmar que

- a) Levi tem 18 anos.
- b) Carlos tem 12 anos.
- c) Léo tem 12 anos.
- d) Carlos tem 6 anos.

2. Observe a sequência.



Que número está faltando?

- a) 12.
- b) 27.
- c) 29.
- d) 32.

3. Pedro e Iago brincam de escrever números formando uma sequência lógica. Observe a sequência escrita por eles.

3	4	7	11	18	29	?
---	---	---	----	----	----	---


Agora será a vez de Iago. Qual número ele vai escrever?

- a) 30.
- b) 38.
- c) 42.
- d) 47.

4. Qual o próximo número da seguinte sequência numérica **13, 35, 57, ?**

- a) 53.
- b) 59.
- c) 75.
- d) 79.

5. Observe as crianças: Juca, Caio, Bia e Karina e analise as afirmativas a seguir.



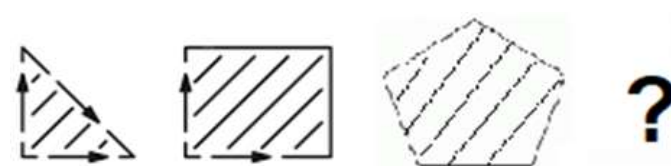
I – Juca não usa boné.

II – Bia tem o cabelo longo.

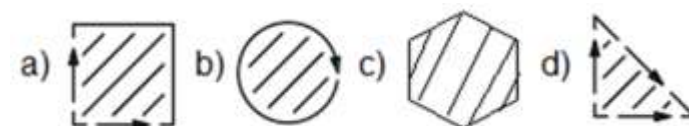
Os nomes das crianças, da esquerda para a direita, são

- a) Bia, Juca, Karina e Caio.
- b) Bia, Caio, Karina e Juca.
- c) Karina, Caio, Bia e Juca.
- d) Karina, Juca, Bia e Caio.

6. Observe a sequência.



A próxima figura dessa sequência é



7. Veja os registros de quatro crianças sobre a quantidade de figurinhas que possuem.

MARA – Eu tenho o dobro das figurinhas da Raissa.

RAISSA – Eu consegui empatar com a Angélica.

THAÍS – Eu tenho uma dezena a menos que a Mara.

ANGELICA – Eu tenho 45 figurinhas.

Sobre as figurinhas é correto afirmar que

- a) Mara tem 90 figurinhas.
- b) Thaís tem 100 figurinhas.
- c) Mara e Raíssa tem juntas 160 figurinhas.
- d) Thaís tem 40 figurinhas a mais que Raíssa.

8. Observe as operações.

$$\text{Coração} + \text{Coração} + \text{Coração} = 45$$

$$\text{Estrela} + \text{Estrela} - \text{Coração} = 5$$

$$\text{Rosa} + \text{Rosa} - \text{Estrela} = 14$$

$$\text{Rosa} + \text{Coração} + \text{Estrela} = ?$$

O resultado da soma é

- a) 37
- b) 34
- c) 27
- d) 25

9. Na sequência abaixo, a próxima figura terá quantos quadradinhos?



Figura 1




Figura 2


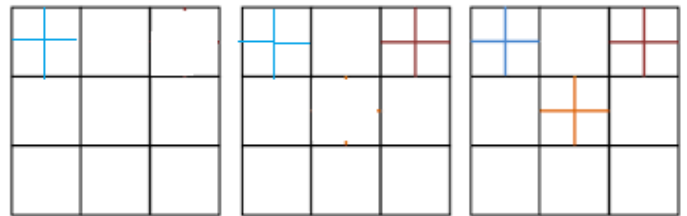


Figura 3

- a) 4.
- b) 9.
- c) 13.
- d) 16.

10. Escolha dentre as figuras a que deve ser a próxima da sequência.



A figura abaixo que completa a sequência acima é:

